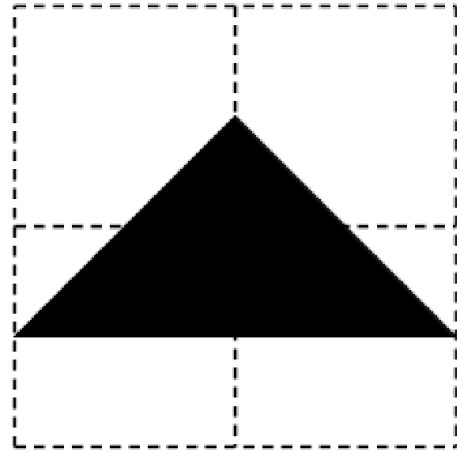



Dibuixant amb daus

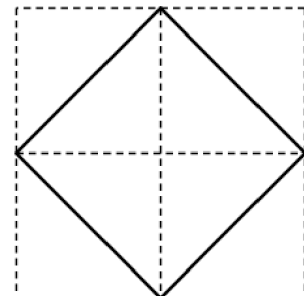
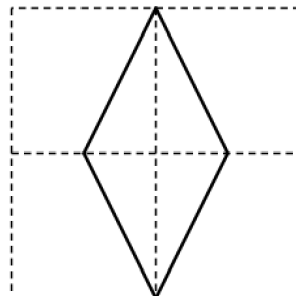
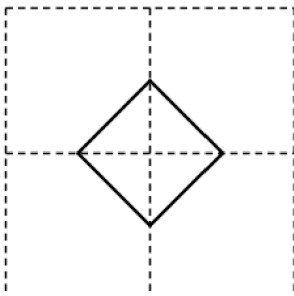
Quina és la relació entre aquestes figures? Quina és més gran?



Pista:

Pots demanar als alumnes que les construeixin primer.

Quina és la relació entre aquestes tres figures?



Pots construir figures amb algun tipus de simetria?

La figura de l'esquerra té simetria rotacional. La figura de la dreta té simetria de reflexió. La figura del mig té totes dues. Quantes figures diferents pots formar amb aquests daus que tenen algun tipus de simetria?

