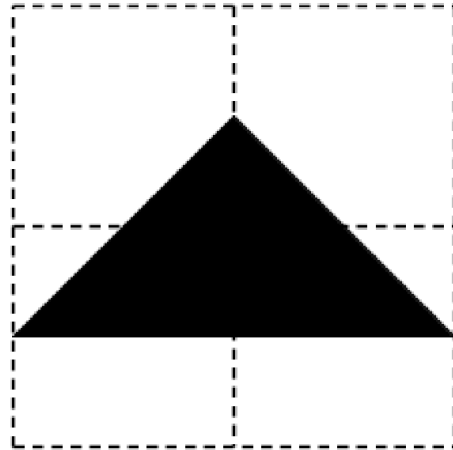



# Dados

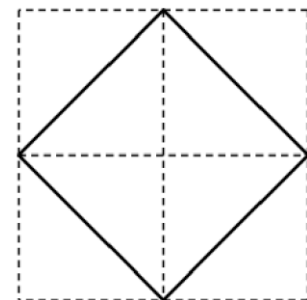
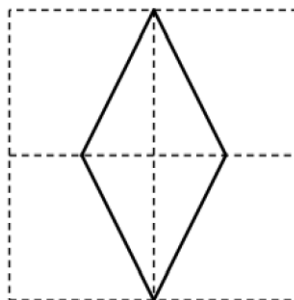
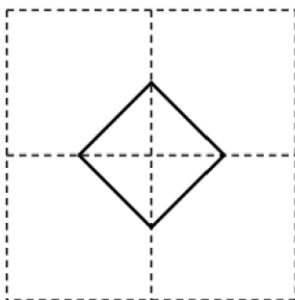
Qual é a relação entre estas duas figuras? Qual delas é maior?



**Sugestões:**

Pode pedir-lhes que as construam primeiro.

Qual é a relação entre estas três figuras?



Consegues construir figuras com algum tipo de simetria?

A figura da esquerda tem simetria de rotação. A figura da direita tem simetria de reflexão. A figura do meio tem ambas. Quantas figuras diferentes podes formar com

estes dados que têm algum tipo de simetria?

