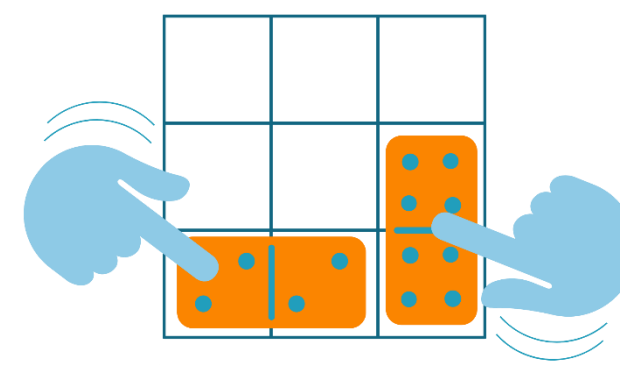





Ντόμινο

Τοποθετείστε και τα επτά ντόμινο σε κάθε πλέγμα. Το άθροισμα των κουκκίδων πρέπει να ισούται με τους αριθμούς που αναγράφονται στην δεξιά πλευρά.



Άθροισμα (+)

				13
				13
				8
				8
5	9	15	13	



Με τη συγχρηματοδότηση
της Ευρωπαϊκής Ένωσης

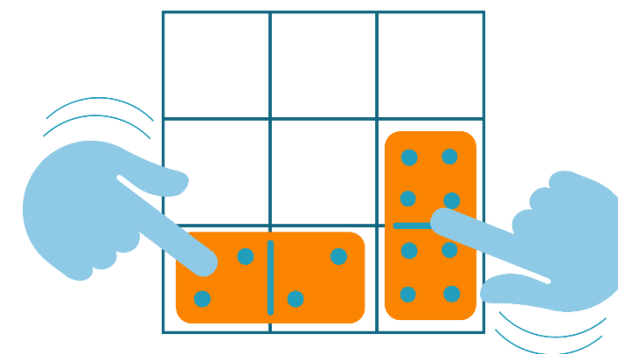


Ντόμινο

Τοποθετείστε και τα επτά ντόμινο σε κάθε πλέγμα.

Ο πολλαπλασιασμός των αριθμών των κουκίδων πρέπει

να ισούται με τους αριθμούς που αναγράφονται στην δεξιά πλευρά.



Γινόμενο (*)

				20
				0
				0
				54
36	0	96	25	



Με τη συγχρηματοδότηση
της Ευρωπαϊκής Ένωσης